

ЗНО з історії України 2016 року**Частина 1**

Історія України XX – початку XXI століття

Пам'ятайте!

Результат виконання завдань частини 1 буде зараховуватися
як державна підсумкова атестація

Запитання 1-23 мають по чотири варіанти відповіді, серед яких лише **ОДИН** правильний. Виберіть правильний, на Вашу думку, варіант відповіді, позначте його в *бланку А* згідно з інструкцією. Не робіть інших позначок у *бланку А*, тому що вони будуть реєструватися як помилки!

Будьте особливо уважні, заповнюючи *бланк А*!

Не погіршуйте власноручно свого результату неправильною формою запису відповідей

1. На картосхемі штрихуванням позначено регіон, до якого наприкінці XIX - на початку XX ст. спрямовувалися іноземні інвестиції у




- А видобування нафти та виробництво нафтопродуктів.
Б видобування кам'яного вугілля та виплавку чорних металів.
В вирощування цукрового буряку та виробництво цукру.
Г розведення худоби та переробку м'яса й шкіри на експорт
2. Напередодні Першої світової війни національні та спортивно-фізкультурні організації «Сокіл», «Січ», «Пласт» активно діяли на
А Закарпатті.
Б Волині.
В Буковині.
Г Галичині.
3. Укажіть один із напрямів діяльності Союзу визволення України, що існував у 1914-1918 рр.
А створення громадських організацій з допомоги біженцям
Б допомога військовополоненим українцям
В формування легіону Українських січових стрільців
Г координація акцій української громади в Державній Думі

Прочитайте фрагмент історичного документа та виконайте завдання 4 – 7.

«Пробувши кілька тижнів у Петрограді, втративши всяку надію одержати якусь відповідь від Временного Правительства, Делегація Центральної Ради після тих принижень, яких зазнала в передпокоях міністерських і Ради робітничих депутатів, повернулася, без всякої офіційної відповіді... до Києва. А в той час... Правительство, нарешті, вирішило й ухвалило одкинути домагання Української Центральної Ради».

4. У якому році відбулася подія, описана в джерелі?
 А 1917 р.
 Б 1918 р.
 В 1919 р.
 Г 1920 р.

5. Хто з діячів, зображених на фото, очолював делегацію Української Центральної Ради до Петрограда?



6. Якою була головна вимога української делегації в Петрограді?
 А конституційне закріплення прав і свобод людини
 Б надання незалежності Україні
 В визнання автономних прав України
 Г затвердження права мати власні збройні сили
7. Описана в джерелі подія стала приводом до
 А першої війни радянської Росії проти УНР.
 Б початку Української революції.
 В проголошення Українською Центральною Радою незалежності УНР.
 Г оприлюднення Українською Центральною Радою Першого Універсалу.
8. Найбільш успішна наступальна операція Української Галицької армії, проведена на завершальному етапі українсько-польської війни 1918-1919 рр., увійшла в історію під назвою
 А «Чортківська офензива».
 Б «Зимовий похід».
 В «Брусиловський прорив».
 Г «Київська катастрофа».

9. На картосхемі штрихуванням позначено територію



А формування радянських повстанських загонів улітку 1918 р.

Б контролювану Добровольчою армією генерала А. Денікіна в жовтні 1919 р.

В створення чисельних парафій Української автокефальної православної церкви в 1921 – 1930 рр.

Г уражену масовим голодом 1921 – 1923 рр.

10. Який із зображених радянських плакатів відображає суть документа, уривок із якого процитовано:

« Це гасло «техніка вирішує все допомогло нам створити найширшу технічну базу в усіх галузях діяльності...Це дуже добре. Але цього далеко і далеко не достатньо. Техніка без людей, які оволоділи технікою, мертва. Техніка на чолі з людьми, котрі оволоділи технікою, може й повинна творити чудеса. Ось чому тепер наголос має бути зроблений на працівниках, які оволоділи технікою...»?



Дамо мільйони кваліфікованих робітничих кадрів для нових 518 фабрик і заводів!



Будуй заводи-гіганти!
Купуй 3-ю позику індустріалізації!



І тут, і там, і скрізь — будуємо соціалізм!



Дамо для соціалізму, що будується, у 1931 р. 8 млн тонн чавуну

11. Історик Я. Грицак у праці «Нариси історії України» зазначив: «Політика стосовно національних меншин стала пробним каменем для демократичного устрою тих держав, які виникли в Центральній та Східній Європі після Першої світової війни». Яка країна, на думку автора та більшості істориків, у період 1920-х – 1930-х рр. стала «єдиною, яка більш-менш задовільно склала цей іспит на демократію...» стосовно українців?
 - А Угорщина
 - Б Чехословаччина
 - В Польща
 - Г Румунія
12. Договір про ненапад між СРСР і Німеччиною та таємний протокол до нього («пакт Молотова-Ріббентропа») було підписано
 - А 15 березня 1939 р.
 - Б 23 серпня 1939 р.
 - В 17 вересня 1939 р.
 - Г 2 листопада 1939 р.
13. Що стало результатом наступальних операцій радянських військ, здійснених у серпні–грудні 1943 р.?
 - А вигнання з Правобережної України та Молдавії німецьких і румунських військ, перенесення бойових дій на територію Румунії та Болгарії
 - Б вигнання німецьких військ з Лівобережної України та Донбасу, перенесення бойових дій на Правобережну Україну
 - В звільнення Одеси, створення сприятливих умов для вигнання німецьких і румунських військ з Південної України та Кримського півострова
 - Г завершення вигнання німецьких військ та їх союзників із всієї території України в її довоєнних кордонах

14. Якою цифрою на картосхемі позначено рейх комісаріат «Україна» - адміністративно-територіальну одиницю німецького окупаційного цивільного управління в роки Другої світової війни?

А 1
 Б 2
 В 3
 Г 4



15. Що стало одним із наслідків реалізації в 40-х рр. XX ст. урядом Польщі заходів, про які йдеться в уривку з документа:

«...1. Швидкими темпами переселити українців і змішані сім'ї на повернуті території (насамперед у Північну Пруссію), не створюючи компактні групи проживання й не ближче ніж 100 км від кордону...»?

А розширення соціальної бази підпілля ОУН і загонів УПА
 Б загострення дипломатичних відносин з Українською РСР
 В часткова асиміляція українців у польському середовищі
 Г нормалізація стосунків влади з українською меншиною

16. Укажіть один із заходів розв'язання владою проблем відбудови важкої промисловості України в другій половині 1940-х – на початку 1950-х рр.

А широка виробнича інтеграція з провідними країнами Заходу
 Б створення системи раднаргоспів
 В запровадження матеріальних стимулів праці
 Г використання трудового ентузіазму робітників


17. Метою реалізації хрущовських над програм у сільському господарстві було

А ліквідація аграрного перенаселення.
 Б руйнування колгоспно-радгоспної системи виробництва.
 В стрімке збільшення виробництва сільгосппродукції.
 Г подолання наслідків голоду 1946-1947 рр.

18. *«Кожний, хто живе на Радянській Україні, любить її, з гордістю говорить: «моя Україна», «наша Україна». І це цілком природно і закономірно. Тут ми народилися, вирости як громадяни, будівники комунізму...»* - це уривок із книги

А Володимира Щербицького.
 Б Петра Шелеста
 В Миколи Руденка
 Г В'ячеслава Чорновола

19. Із якою подією пов'язані діячі, зображені на фото?




- А акцією протесту в кінотеатрі «Україна» проти арештів дисидентів
 Б створенням української Гельсінської спілки
 В заснування Української робітничо-селянської спілки
 Г Повстання політичних в'язнів у Норильському концтаборі
20. Зображений на фото документ, що видавався місцевими радами в Україні, свідчить про



- А провал політики перебудови.
 Б занепад «самвидаву».
 В розквіт епохи «застою».
 Г запровадження політики «гласності»
21. Яке запитання було винесено на Всеукраїнський референдум 1 грудня 1991 р.?
- А «Чи підтверджуєте Ви Угоду про створення Співдружності Незалежних Держав?»
 Б «Чи вважаєте Ви необхідним збереження СРСР як оновленої федерації рівноправних суверенних республік?»
 В «Чи підтверджуєте Ви Акт проголошення незалежності України?»
 Г «Чи вважаєте Ви необхідним заборонити Комуністичну партію Радянського Союзу?»
22. «Не зміна облич при владі, а зміна системи, і найголовніше – пошук інструментарію для зміни цієї системи», на думку письменниці та публіциста О. Забужко, стало гаслом
- А «Помаранчевої революції».
 Б «революції згори».
 В «Революції гідності».
 Г «культурної революції».

23. Характеризуючи події, відображені на карикатурі, доцільно використовувати поняття
- А «лібералізація».
 - Б «анексія».
 - В «депортація».
 - Г «мобілізація».



У завданнях 24—26 до кожного з чотирьох рядків інформації, позначених цифрами, виберіть один правильний, на Вашу думку, варіант, позначений буквою. Поставте позначки в таблицях відповідей до завдань у *бланку А* на перетині відповідних рядків (цифри) і колонок (букви). Не робіть інших позначок у *бланку А*, тому що вони будуть реєструватися як помилки!

Будьте особливо уважні, заповнюючи *бланк А*!
 Не погіршуйте власноручно свого результату неправильною формою запису відповідей

24. Установіть відповідність між подією періоду боротьби за збереження державної незалежності України (1918-1921 рр.) та її наслідком.

- | | |
|--|---|
| 1 утворення Директорії УНР | А повалення режиму гетьмана П. Скоропадського |
| 2 розгром Добровольчої армії генерала Денікіна | Б припинення збройної боротьби за незалежність України |
| 3 проголошення Української Держави | В відновлення радянської влади на території України |
| 4 утворення Західноукраїнської Народної Республіки | Г запровадження державної монополії на продаж хліба, цукру, спирту; заборона на вивіз нафти |
| | Д відновлення поміщицького землеволодіння |

	А	Б	В	Г	Д
1					
2					
3					
4					

25. Установіть відповідність між країною та подією суспільно-політичного життя, що відбулася на українських землях, які входили до її складу в 1920-х-1930-х рр.
- | | |
|-----------------------------|---|
| 1 Українська СРР | А створення Є.Коновальцем Організації українських націоналістів (ОУН) |
| 2 Польська Республіка | Б Проголошення автономії Підкарпатської Русі |
| 3 Королівство Румунія | В судовий процес над членами ОУН у справі вбивства міністра внутрішніх справ Б. Перацького |
| 4 Чехо-Словацька Республіка | Г судовий процес над представниками української інтелігенції в справі «Спілки визволення України» |
| | Д створення В. Залозецьким Української національної партії (УНП) |

	А	Б	В	Г	Д
1					
2					
3					
4					

26. Установіть відповідність між періодами в історії України та поняттями й термінами, які потрібно використовувати, характеризуючи його
- | | |
|---|--|
| 1 післявоєнна відбудова та розвиток (1945 – початок 1950-х рр.) | А «саморозпуск» УГКЦ», «ждановщина», «космополітизм», «лисенківщина» |
| 2 Україна в умовах десталінізації (1953–1964 рр.) | Б «відлига», «політична реабілітація», раднаргоспи», «шістдесятники» |
| 3 загострення кризи радянської системи (середина 1960-х-початок 1980-х рр.) | В «самвидав», «номенклатура», «дефіцит», «правозахисник» |
| 4 Україна в умовах незалежності (1991 – початок XXI ст.) | Г «новий порядок», «радянська організація», «план "Ост"», «депортація» |
| | Д «приватизація», «тимчасово окупована територія», «антитерористична операція (АТО)», «європейська інтеграція» |

	А	Б	В	Г	Д
1					
2					
3					
4					

У завданнях 27, 28 розташуйте події в хронологічній послідовності. Поставте позначки в таблицях відповідей до завдань у *бланку А* на перетині відповідних рядків (цифри) і колонок (букви). Цифрі 1 має відповідати вибрана Вами перша подія, цифрі 2 – друга, цифрі 3 – третя, цифрі 4 – четверта. Не робіть інших позначок у *бланку А*, тому що вони будуть реєструватися як помилки!

Будьте особливо уважні, заповнюючи *бланк А*!
Не погіршуйте власноручно свого результату неправильною формою запису відповідей

27. Установіть послідовність утворення органів державної влади.
- | | | | | | |
|--|---|--|--|--|--|
| А Генеральний секретаріат Української Центральної Ради | 1 | | | | |
| Б Рада народних комісарів Української Соціалістичної Радянської Республіки | 2 | | | | |
| В Державний секретаріат Західноукраїнської Народної республіки | 3 | | | | |
| Г Рада міністрів Української Держави | 4 | | | | |

	А	Б	В	Г
1				
2				
3				
4				

28. Установіть послідовність ухвалення документів, уривки з яких процитовано.
- А** «Підтверджуючи відданість України ідеалам та принципам, які є спільним надбанням європейських народів... Верховна Рада України постановляє: Приєднатися від імені України до Статуту Ради Європи...»
- Б** «Верховна Рада України постановляє: 1. Ввести в дію Закон України "Про Збройні Сили України" з моменту його прийняття. 2. Доручити Кабінету Міністрів України розробити пропозиції щодо загальної структури Збройних Сил України...»
- В** «На виконання Закону України "Про військово-цивільні адміністрації" постановляю: 1. Утворити: ...Артемівську районну військово-цивільну адміністрацію..., Костянтинівську районну військово-цивільну адміністрацію..., Ясинуватську районну військово-цивільну адміністрацію Донецької області...»
- Г** «Верховна Рада України постановляє: ...Прийняти Конституцію України... Визнати такою, що втратила чинність. Конституцію (Основний закон) України від 20 квітня 1978 року з наступними змінами і доповненнями...»

	А	Б	В	Г
1				
2				
3				
4				

Завдання 29, 30 мають по сім варіантів відповідей, серед яких лише три правильні. Виберіть цифри, що позначають правильні, на Вашу думку, відповіді та запишіть їх у бланку А згідно з інструкцією. Порядок написання цифр значення не має. Для виправлення помилково вказаної відповіді запишіть новий варіант відповіді (три цифри) у спеціально відведеному місці бланка А. Не робіть інших позначок у бланку А, тому що вони будуть реєструватися як помилки!

Будьте особливо уважні, заповнюючи бланк А!
Не погіршуйте власноручно свого результату неправильною формою запису відповідей

29. Укажіть характерні риси тоталітарного режиму в Українській РСР у 1930-х роках.
- 1** у панування однопартійної системи, зрощування партійного та державного апаратів, культ вождя
- 2** співіснування державного та приватного секторів економіки, підтримка підприємницької активності громадян
- 3** усеохоплюючий політико-ідеологічний контроль держави над усіма сферами життя суспільства
- 4** існування незалежних профспілок, неурядових громадських організацій та інституцій
- 5** одержавлення економіки, її мілітаризація та бюрократизація, використання примусової праці
- 6** визнання абсолютної цінності людської особистості, дотримання владою принципу «особа важливіша за державу»
- 7** політичний плюралізм, активна діяльність партій, які є виразниками інтересів різних верств суспільства

--	--	--

30. Колективізація в Західній Україні в другій половині 1940-х – 1950-х рр. проводилася з метою
- 1 виконання умов для отримання допомоги за «планом Маршалла».
 - 2 утвердження соціальної структури радянського суспільства.
 - 3 уніфікації системи господарювання на всій території УРСР.
 - 4 зламу приватновласницької психології місцевого населення.
 - 5 реалізації угоди з обміну населення між УРСР і Польщею.
 - 6 приховування наслідків Голодомору 1932 – 1933 рр.
 - 7 підготовки масової депортації українців до Сибіру.

☐☐☐

Ви завершили роботу над завданням частини 1.
Перевірте правильність перенесення своїх відповідей до бланка А.
Пам'ятайте!

Результат виконання завдань частини 1 буде зараховуватися
як **державна підсумкова атестація**

Перейдіть на наступну сторінку
та виконуйте завдання частини 2

Частина 2

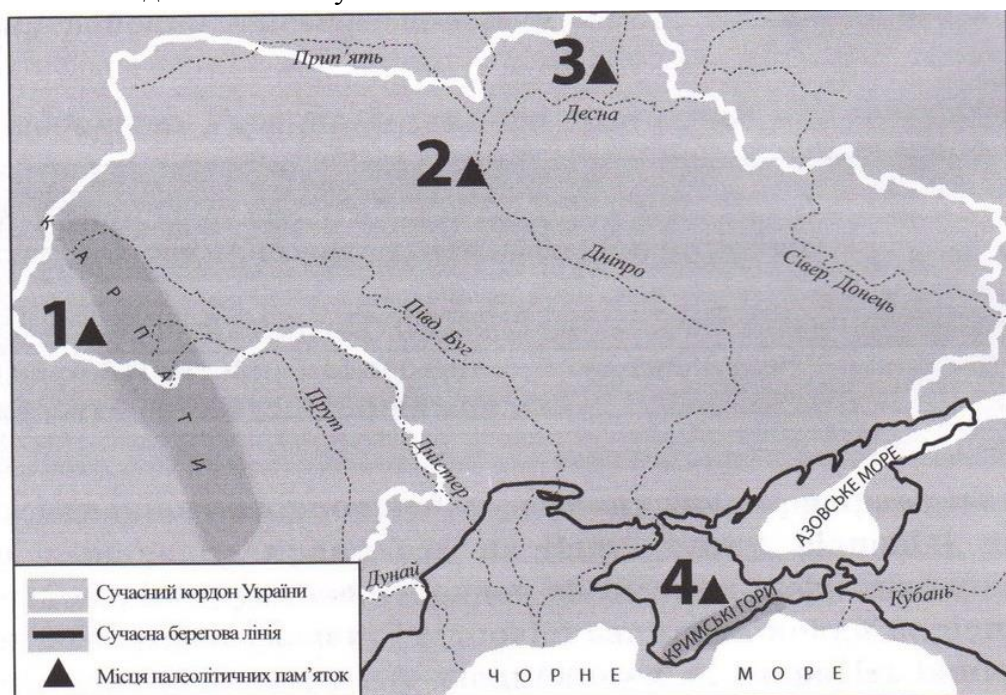
Історія України від найдавніших часів до кінця XIX століття

Запитання 31-53 мають по чотири варіанти відповіді, серед яких лише один правильний. Виберіть правильний, на Вашу думку, варіант відповіді, позначте його в бланку А згідно з інструкцією. Не робіть інших позначок у бланку А, тому що вони будуть реєструватися як помилки!

Будьте особливо уважні, заповнюючи бланк А!
 Не погіршуйте власноручно свого результату неправильною формою запису відповідей

31. Якою цифрою на картосхемі позначено місцезнаходження Мізинської стоянки – археологічної пам'ятки доби палеоліту?

А 1
 Б 2
 В 3
 Г 4



32. Поляни, сіверяни, древляни – це назви
 А варязьких факторій на землях слов'ян
 Б племінних союзів східних слов'ян
 В язичницьких ідолів давніх слов'ян
 Г основних соціальних груп слов'ян
33. За правління якого князя відбулася подія, описана в уривку з історичного джерела:
«І за цим священним правилом – єпископи поставили Іларіона, русина, митрополитом Києва і всієї землі Руської...»?
 А Ігоря
 Б Святослава
 В Володимира Великого
 Г Ярослава Мудрого
34. Пріоритет у зовнішній політиці князя Данила Романовича Галицького в другій половині 1240-х – 1260-х рр. полягав у
 А створенні коаліції європейських держав для боротьби із Золотою Ордою.
 Б розширенні території держави за рахунок володінь Угорщини.
 В здобутті великокнязівського столу в Литві для свого сина Лева.
 Г зміцненні союзу з Польщею для відсічі агресії Тевтонського ордену.

35. Проявом впливу на Русь якої культури є ікони, зображені на фото?



- А західноєвропейської
 Б іудейської
 В візантійської
 Г мусульманської
36. Коли відбулася подія, наслідки якої описано в уривку з історичного джерела:
«Магнати і шляхта змусили юну королеву [Ядвігу] в державних інтересах Польщі відмовитися від нареченого з австрійського дому і вийти заміж за литовського князя Ягайла...»?
 А 1385 р.
 Б 1413 р.
 В 1569 р.
 Г 1596 р.

37. Пам'ятка архітектури Львова, зображена на фото, пов'язана із життєдіяльністю міської громади
 А поляків.
 Б євреїв.
 В вірмен.
 Г німців.



38. Затвердження в 70-х рр. XVI ст. урядом Речі Посполитої створення реєстрового війська стало політичним і правовим актом
 А визначення козацтва новим соціальним станом.
 Б об'єднання інтересів польської шляхти та козацтва.
 В завершення польсько-українського протистояння.
 Г припинення масового покозачення селян і міщан.

39. Укажіть портрет гетьмана Петра Конашевича-Сагайдачного.



40. Союзницькі відносини, що склалися між Військом Запорозьким і Московським царством, відкривали перед гетьманом Б. Хмельницьким перспективу довести до переможного кінця війну проти
 А Шведського королівства.
 Б Речі Посполитої.
 В Османської імперії.
 Г Молдавського князівства.
41. Перемога українсько-татарських військ над московськими військами в битві під Конотопом відбулася
 А 1648 р.
 Б 1649 р.
 В 1651р.
 Г 1659 р.
42. «Нині цей край зруйнований, а війна, ніби гангрена, що все пожирає, обернула найродючішу частину Європи на спорожнілі поля, зарослі бур'яном руїни, на покинуті жителями міста...», – так іноземний автор, характеризуючи Руїну, описав її
 А історичне значення.
 Б події.
 В причини.
 Г наслідки.
43. Що стало результатом прийняття козаками умов, висунених царським урядом:
«...Жити запорожцям у місцях, де розорено в 1709 році їхнє житло. Користуватися їм промислами... Зберігати їм вірність престолу російському... Бути їм в залежності від головнокомандуючого генерала в Малій Русі визначеного...»?
 А ліквідація Правління гетьманського уряду
 Б відновлення гетьманства
 В заснування Нової (Підпільненської) Січі
 Г утворення першої Малоросійської колегії
44. Створення яких губерній у складі Російської імперії стало наслідком третього поділу Речі Посполитої?
 А Херсонської, Таврійської, Катеринославської
 Б Подільської, Волинської, Київської
 В Бессарабської, Холмської, Полтавської
 Г Чернігівської, Полтавської, Харківської

45. Пам'ятка архітектури, зображена на фото, є окрасою міста
А Харкова
Б Києва
В Львова
Г Одеси



46. Рух декабристів був складовою
А європейської «весни народів».
Б українського національно-визвольного руху.
В польського національно-визвольного повстання.
Г російського дворянського опозиційного руху.
47. Прочитайте уривок із праці М. Грушевського та виконайте завдання.
«У тих землях, що одійшли до Австрії, нове правительство австрійське заходилося коло того, щоб поліпшити долю кріпаків українських, обмежити безмежну владу польських панів над ними». Чим зумовлені зазначені урядові заходи?
А реформами Марії-Терезії та Йосифа II 1770-х - 1780-х рр.
Б Польським повстанням 1830-1831 рр.
В революцією 1848-1849 рр. в Австрійській імперії
Г Польським національно-визвольним повстанням 1863-1864 рр.
48. Вагомим прикладом активної громадсько-політичної діяльності Головної руської ради в 1848-1851 рр. є
А створення товариства «Просвіта» та Наукового товариства ім. Т. Шевченка.
Б заснування першого просвітницького товариства греко-католицьких священиків, видання «Русалки Дністрової».
В видання «Зорі Галицької», відкриття кафедри української мови і літератури у Львівському університеті.
Г проведення Слов'янського з'їзду в Празі, започаткування «нової ери» в українсько-польських відносинах.
49. Про заснування якого навчального закладу йдеться в уривку з історичного джерела:
«Місцем його заснування було обрано місто... де вперше засяло й звідси розлилося по всій Давній Русі світло істинної [християнської] віри. Заснований університет, названий... на честь великого просвітителя Русі, удостоєний прийняттям під особливе покровительство Його імператорської величності...»?
А Київського університету
Б Новоросійського університету
В Чернівецького університету
Г Харківського університету

50. У 1863 р. царською владою ухвалено розпорядження, що ввійшло в історію під назвою
А «Столипінський циркуляр».
Б «Емський указ».
В «Жалувана грамота».
Г «Валуєвський циркуляр».
51. Діячі якого суспільного руху були ініціаторами відкриття «Південно-Західного відділу Російського географічного товариства»?
А москвофільського
Б радикального
В народовського
Г громадівського
52. Про яке соціально-економічне явище йдеться в уривку з історичного джерела:
«Нужда галицька так надоїла нашим людям, що і в пекло не бояться йти, щоб лише втекти з рідного краю... Пішов голос про Бразилію. Незнаний цей край, далекий, але народ не зважав, не роздумував довго: утекти з неволі — це єдиний вихід»?
А трудова еміграція
Б промисловий переворот
В аграрний переворот
Г кооперативний рух
53. На фото зображено будівлю



- А резиденції митрополита Буковини в Чернівцях
Б банку «Дністер».
В Київського університету.
Г Полтавського земства.

У завданнях 54–56 до кожного з чотирьох рядків інформації, позначених цифрами, виберіть один правильний, на Вашу думку, варіант, позначений буквою. Поставте позначки в таблицях відповідей до завдань у *бланку А* на перетині відповідних рядків (цифри) і колонок (букви). Не робіть інших позначок у *бланку А*, тому що вони будуть реєструватися як помилки!

Будьте особливо уважні, заповнюючи *бланк А*!
Не погіршуйте власноручно свого результату неправильною формою запису відповідей

54. Установіть відповідність між подією, описаною в уривку з історичного джерела, та іменем князя, який був до неї причетний.

1 «Сказав... матері своїй і боярам своїм: "Не люблю мені в Києві жити, хочу жити в Переяславці на Дунаї"...» А Олег

2 «...віддав Корсунь грекам як викуп за царицю, а сам повернувся в Київ...» Б Ігор

3 «...І мовив...Аскольдові та Дірові: "Ви оба не є князі. Ні роду княжого. Я є роду княжого." – "А се – син Рюриків..."» В Святослав

4 «Із города Іскоростеня вийшли проти нього древляни й убили [його] і дружину його, бо було їх мало...» Г Володимир Великий.
Д Ярослав Мудрий

	А	Б	В	Г	Д
1					
2					
3					
4					

55. Установіть відповідність між подією та роком, коли вона відбулася.

1 ухвалення Конституції Пилипа Орлика А 1710 р.

2 оприлюднення царського указу про закріпачення селян Лівобережної та Слобідської України Б 1764 р.

3 остаточна ліквідація гетьманства В 1775 р.

4 остаточна ліквідація царським урядом Запорозької Січі Г 1783 р.

Д 1785 р.

	А	Б	В	Г	Д
1					
2					
3					
4					

56. Установіть відповідність між виданням та його характеристикою.

- | | |
|---|--|
| <p>1 «Громада»</p> <p>2 «Самостійна Україна»</p> <p>3 «Історія русів»</p> <p>4 «Основа»</p> | <p>А перший український суспільно-політичний і літературно-мистецький журнал, що видавався українською петербурзькою громадою в 1861 – 1862 рр.</p> <p>Б український громадсько-політичний і науково-літературний збірник, що видавався в Женеві М. Драгомановим у період 1878 – 1879 рр. та в 1882 р.</p> <p>В одна з найвизначніших пам'яток української історичної та суспільно-політичної думки другої половини XVIII – початку XIX ст., у якій обстоювалася ідея самостійного державного розвитку України</p> <p>Г публіцистичний твір, написаний у 1900 р. М. Міхновським як програма Революційної української партії</p> <p>Д щомісячний історико-етнографічний та літературний часопис, що видавався в Києві російською й українською мовами протягом 1882 – 1906 рр.</p> |
|---|--|


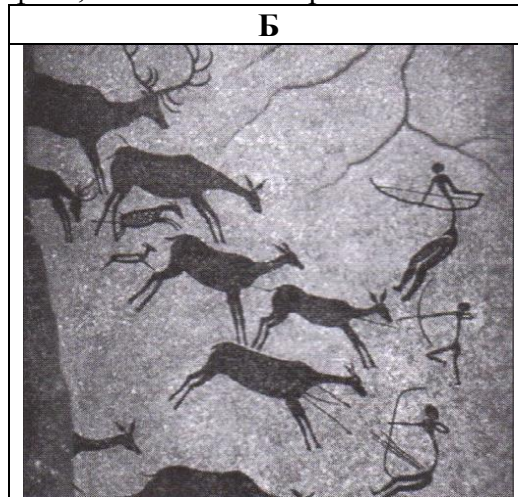
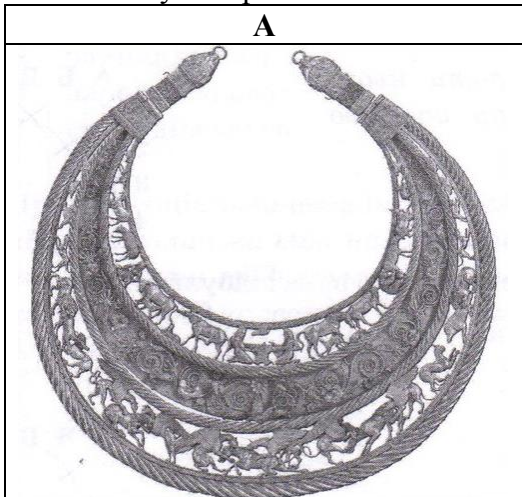
	А	Б	В	Г	Д
1					
2					
3					
4					

У завданнях 57, 58 розташуйте події в хронологічній послідовності. Поставте позначки в таблицях відповідей до завдань у *бланку А* на перетині відповідних рядків (цифри) і колонок (букви). Цифрі 1 має відповідати вибрана Вами перша подія, цифрі 2 – друга, цифрі 3 – третя, цифрі 4 – четверта. Не робіть інших позначок у *бланку А*, тому що вони будуть реєструватися як помилки!

Будьте особливо уважні, заповнюючи *бланк А*!

Не погіршуйте власноручно свого результату неправильною формою запису відповідей

57. Розташуйте археологічні пам'ятки, зображені на фото, за часом їх створення.



	А	Б	В	Г
1				
2				
3				
4				

58. Установіть послідовність перебування при владі гетьманів.

- А Іван Виговський
 Б Іван Мазепа
 В Іван Брюховецький
 Г Іван Скоропадський

	А	Б	В	Г
1				
2				
3				
4				

Завдання 59, 60 мають по сім варіантів відповідей, серед яких лише три правильні. Виберіть цифри, що позначають правильні, на Вашу думку, відповіді та запишіть їх у *бланку А* згідно з інструкцією. Порядок написання цифр значення не має. Для виправлення помилково вказаної відповіді запишіть новий варіант відповіді (три цифри) у спеціально відведеному місці *бланка А*. Не робіть інших позначок у *бланку А*, тому що вони будуть реєструватися як помилки!

Будьте особливо уважні, заповнюючи *бланк А*!
 Не погіршуйте власноручно свого результату неправильною формою запису відповідей

59. Укажіть наслідки битви на річці Сині Води (1362 р.).
- 1 укладення польсько-литовської міждинастичної Кревської унії
 - 2 посилення утисків православного населення в межах Великого князівства Литовського
 - 3 ліквідація удільного устрою українських земель у складі Великого князівства Литовського
 - 4 суттєве послаблення політичного впливу в Золотій Орді татарських орд, що кочували на захід від Дніпра
 - 5 ліквідація васальної залежності Галицько-Волинської держави від Золотої Орди
 - 6 значна частина українських земель увійшла до складу Великого князівства Литовського
 - 7 територіальні межі Золотої Орди було відсунуто в пониззя Дністра й Південного Бугу, а на Дніпрі – до порогів
60. Які соціально-економічні зміни відбувалися на українських землях у складі Російської імперії в другій половині XVIII ст.?
- 1 зрівняння в правах козацької старшини з російським дворянством
 - 2 скасування общинного землеволодіння
 - 3 запровадження кріпацтва
 - 4 початок промислового перевороту
 - 5 поширення дворянського землеволодіння на землі Вольностей Війська Запорозького Низового
 - 6 ліквідація фільваркового господарства
 - 7 ліквідація чумацьких промислів

Ви завершили роботу над завданням частини 2.
 Перевірте правильність перенесення своїх відповідей до *бланка А*.
 Якщо час, відведений на виконання завдань частин 1 і 2, сплив,
 здайте *бланк А* інструктору